




«СОГЛАСОВАНО»
Председатель
Научно-методического совета
ФГБНУ «ФИПИ» по физике



М.Н. Стриханов
«23» мая 2016 г.

**Государственная итоговая аттестация по образовательным
программам основного общего образования в форме
основного государственного экзамена (ОГЭ)**

**Демонстрационный вариант
контрольных измерительных материалов для
проведения в 2017 году основного государственного
экзамена по ФИЗИКЕ**

подготовлен Федеральным государственным бюджетным
научным учреждением
«ФЕДЕРАЛЬНЫЙ ИНСТИТУТ ПЕДАГОГИЧЕСКИХ ИЗМЕРЕНИЙ»

**Демонстрационный вариант
контрольных измерительных материалов для
проведения в 2017 году основного государственного
экзамена по ФИЗИКЕ**

Пояснение к демонстрационному варианту

При ознакомлении с демонстрационным вариантом 2017 г. следует иметь в виду, что задания, включённые в демонстрационный вариант, не отражают всех элементов содержания, которые будут проверяться с помощью вариантов КИМ в 2017 г. Полный перечень элементов содержания, которые могут контролироваться на экзамене 2017 г., приведён в кодификаторе элементов содержания и требований к уровню подготовки обучающихся для проведения основного государственного экзамена по физике, размещённом на сайте: www.fipi.ru.

Демонстрационный вариант предназначен для того, чтобы дать возможность любому участнику экзамена и широкой общественности составить представление о структуре экзаменационной работы, количестве и форме заданий, а также об их уровне сложности. Приведённые критерии оценивания выполнения заданий с развёрнутым ответом, включённые в демонстрационный вариант экзаменационной работы, позволят составить представление о требованиях к полноте и правильности записи развёрнутого ответа.

Эти сведения дают выпускникам возможность выработать стратегию подготовки к сдаче экзамена по физике.

Демонстрационный вариант 2017 года**Инструкция по выполнению работы**

Экзаменационная работа состоит из двух частей, включающих в себя 26 заданий. Часть 1 содержит 21 задание с кратким ответом и одно задание с развёрнутым ответом, часть 2 содержит четыре задания с развёрнутым ответом.

На выполнение экзаменационной работы по физике отводится 3 часа (180 минут).

Ответы к заданиям 2–5, 8, 11–14, 17, 18, 20 и 21 записываются в виде одной цифры, которая соответствует номеру правильного ответа. Эту цифру запишите в поле ответа в тексте работы, а затем перенесите в бланк ответов № 1.

Ответы к заданиям 1, 6, 9, 15, 19 записываются в виде последовательности цифр без пробелов, запятых и других дополнительных символов. Ответы к заданиям 7, 10 и 16 записываются в виде числа с учётом указанных в ответе единиц. Единицы измерения в ответе указывать не надо. Ответы запишите в поле ответа в тексте работы, а затем перенесите в бланк ответов № 1.

К заданиям 22–26 следует дать развёрнутый ответ. Задания выполняются на бланке ответов № 2. Задание 23 экспериментальное, и для его выполнения необходимо воспользоваться лабораторным оборудованием.

При вычислениях разрешается использовать непрограммируемый калькулятор.

При выполнении заданий можно пользоваться черновиком. Записи в черновике не учитываются при оценивании работы.

Баллы, полученные Вами за выполненные задания, суммируются. Постарайтесь выполнить как можно больше заданий и набрать наибольшее количество баллов.

Желаем успеха!

Ниже приведены справочные данные, которые могут понадобиться Вам при выполнении работы.

Десятичные приставки		
Наименование	Обозначение	Множитель
гига	Г	10^9
мега	М	10^6
кило	к	10^3
гекто	г	10^2
санти	с	10^{-2}
милли	м	10^{-3}
микро	мк	10^{-6}
нано	н	10^{-9}

Константы	
ускорение свободного падения на Земле	$g = 10 \frac{\text{м}}{\text{с}^2}$
гравитационная постоянная	$G = 6,7 \cdot 10^{-11} \frac{\text{Н} \cdot \text{м}^2}{\text{кг}^2}$
скорость света в вакууме	$c = 3 \cdot 10^8 \frac{\text{м}}{\text{с}}$
элементарный электрический заряд	$e = 1,6 \cdot 10^{-19} \text{ Кл}$

Плотность			
бензин	$710 \frac{\text{кг}}{\text{м}^3}$	древесина (сосна)	$400 \frac{\text{кг}}{\text{м}^3}$
спирт	$800 \frac{\text{кг}}{\text{м}^3}$	парафин	$900 \frac{\text{кг}}{\text{м}^3}$
керосин	$800 \frac{\text{кг}}{\text{м}^3}$	лёд	$900 \frac{\text{кг}}{\text{м}^3}$
масло машинное	$900 \frac{\text{кг}}{\text{м}^3}$	алюминий	$2700 \frac{\text{кг}}{\text{м}^3}$
вода	$1000 \frac{\text{кг}}{\text{м}^3}$	мрамор	$2700 \frac{\text{кг}}{\text{м}^3}$
молоко цельное	$1030 \frac{\text{кг}}{\text{м}^3}$	цинк	$7100 \frac{\text{кг}}{\text{м}^3}$
вода морская	$1030 \frac{\text{кг}}{\text{м}^3}$	сталь, железо	$7800 \frac{\text{кг}}{\text{м}^3}$
глицерин	$1260 \frac{\text{кг}}{\text{м}^3}$	медь	$8900 \frac{\text{кг}}{\text{м}^3}$
ртуть	$13\,600 \frac{\text{кг}}{\text{м}^3}$	свинец	$11\,350 \frac{\text{кг}}{\text{м}^3}$

Удельная			
теплоёмкость воды	$4200 \frac{\text{Дж}}{\text{кг} \cdot ^\circ\text{C}}$	теплота парообразования воды	$2,3 \cdot 10^6 \frac{\text{Дж}}{\text{кг}}$
теплоёмкость спирта	$2400 \frac{\text{Дж}}{\text{кг} \cdot ^\circ\text{C}}$	теплота парообразования спирта	$9,0 \cdot 10^5 \frac{\text{Дж}}{\text{кг}}$
теплоёмкость льда	$2100 \frac{\text{Дж}}{\text{кг} \cdot ^\circ\text{C}}$	теплота плавления свинца	$2,5 \cdot 10^4 \frac{\text{Дж}}{\text{кг}}$
теплоёмкость алюминия	$920 \frac{\text{Дж}}{\text{кг} \cdot ^\circ\text{C}}$	теплота плавления стали	$7,8 \cdot 10^4 \frac{\text{Дж}}{\text{кг}}$
теплоёмкость стали	$500 \frac{\text{Дж}}{\text{кг} \cdot ^\circ\text{C}}$	теплота плавления олова	$5,9 \cdot 10^4 \frac{\text{Дж}}{\text{кг}}$
теплоёмкость цинка	$400 \frac{\text{Дж}}{\text{кг} \cdot ^\circ\text{C}}$	теплота плавления льда	$3,3 \cdot 10^5 \frac{\text{Дж}}{\text{кг}}$
теплоёмкость меди	$400 \frac{\text{Дж}}{\text{кг} \cdot ^\circ\text{C}}$	теплота сгорания спирта	$2,9 \cdot 10^7 \frac{\text{Дж}}{\text{кг}}$
теплоёмкость олова	$230 \frac{\text{Дж}}{\text{кг} \cdot ^\circ\text{C}}$	теплота сгорания керосина	$4,6 \cdot 10^7 \frac{\text{Дж}}{\text{кг}}$
теплоёмкость свинца	$130 \frac{\text{Дж}}{\text{кг} \cdot ^\circ\text{C}}$	теплота сгорания бензина	$4,6 \cdot 10^7 \frac{\text{Дж}}{\text{кг}}$
теплоёмкость бронзы	$420 \frac{\text{Дж}}{\text{кг} \cdot ^\circ\text{C}}$		

Температура плавления		Температура кипения	
свинца	327 °C	воды	100 °C
олова	232 °C	спирта	78 °C
льда	0 °C		

Удельное электрическое сопротивление, $\frac{\text{Ом} \cdot \text{мм}^2}{\text{м}}$ (при 20 °C)			
серебро	0,016	никелин	0,4
медь	0,017	нихром (сплав)	1,1
алюминий	0,028	фехраль	1,2
железо	0,10		

Нормальные условия: давление 10^5 Па, температура 0 °C

Часть 1

Ответом к заданиям 1, 6, 9, 15, 19 является последовательность цифр. Последовательность цифр записывайте без пробелов, запятых и других дополнительных символов. Ответом к заданиям 2–5, 8, 11–14, 17, 18, 20 и 21 является одна цифра, которая соответствует номеру правильного ответа. Ответом к заданиям 7, 10 и 16 является число. Единицы измерения в ответе указывать не надо. Запишите ответ в поле ответа в тексте работы, а затем перенесите в БЛАНК ОТВЕТОВ № 1 справа от номера соответствующего задания, начиная с первой клеточки. Каждый символ пишите в отдельной клеточке в соответствии с приведёнными в бланке образцами.

- 1** Установите соответствие между физическими величинами и приборами для измерения этих величин: к каждому элементу первого столбца подберите соответствующий элемент из второго столбца.

ФИЗИЧЕСКИЕ ВЕЛИЧИНЫ

- А) атмосферное давление
- Б) температура воздуха
- В) влажность воздуха

ПРИБОРЫ

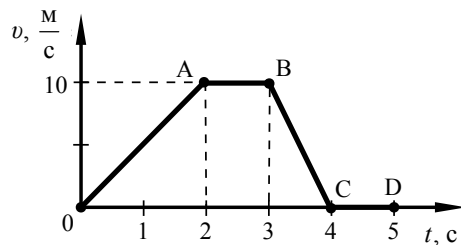
- 1) манометр
- 2) термометр
- 3) калориметр
- 4) барометр-анероид
- 5) гигрометр

Запишите в таблицу выбранные цифры под соответствующими буквами.

Ответ:

А	Б	В

- 2** На рисунке приведён график зависимости модуля скорости прямолинейно движущегося тела от времени (относительно Земли).



На каком(-их) участке(-ах) сумма сил, действующих на тело, равна нулю?

- 1) на участках OA и BC
- 2) только на участке AB
- 3) на участках AB и CD
- 4) только на участке CD

Ответ:

- 3** Мяч бросают вертикально вверх с поверхности Земли. Сопротивление воздуха пренебрежимо мало. При увеличении начальной скорости мяча в 2 раза высота подъёма мяча

- 1) увеличится в $\sqrt{2}$ раза
- 2) увеличится в 2 раза
- 3) увеличится в 4 раза
- 4) не изменится

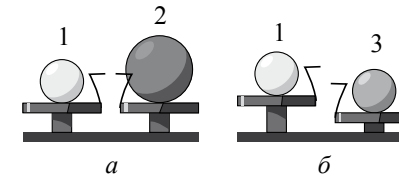
Ответ:

- 4** Сравните громкость звука и высоту тона двух звуковых волн, испускаемых камертонами, если для первой волны амплитуда $A_1 = 1$ мм, частота $\nu_1 = 600$ Гц, для второй волны амплитуда $A_2 = 2$ мм, частота $\nu_2 = 300$ Гц.

- 1) громкость первого звука больше, чем второго, а высота тона меньше
- 2) и громкость, и высота тона первого звука больше, чем второго
- 3) и громкость, и высота тона первого звука меньше, чем второго
- 4) громкость первого звука меньше, чем второго, а высота тона больше

Ответ:

- 5** Шар 1 последовательно взвешивают на рычажных весах с шаром 2 и шаром 3 (рис. а и б). Для объёмов шаров справедливо соотношение $V_1 = V_3 < V_2$.

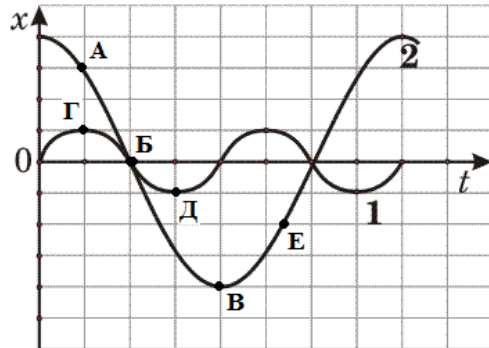


Минимальную среднюю плотность имеет(-ют) шар(-ы)

- 1) 1
- 2) 2
- 3) 3
- 4) 1 и 2

Ответ:

6 На рисунке представлены графики зависимости смещения x от времени t при колебаниях двух математических маятников. Из предложенного перечня утверждений выберите **два** правильных. Укажите их номера.



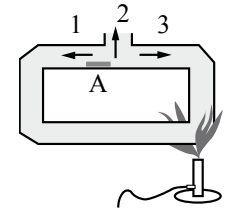
- 1) В положении, соответствующем точке Д на графике, маятник 1 имеет максимальную потенциальную энергию.
- 2) В положении, соответствующем точке Б на графике, оба маятника имеют минимальную потенциальную энергию.
- 3) Маятник 1 совершает затухающие колебания.
- 4) При перемещении маятника 2 из положения, соответствующего точке А, в положение, соответствующее точке Б, кинетическая энергия маятника убывает.
- 5) Частоты колебаний маятников совпадают.

Ответ:

7 На коротком плече рычага укреплен груз массой 100 кг. Для того чтобы поднять груз на высоту 8 см, к длинному плечу рычага приложили силу, равную 200 Н. При этом точка приложения этой силы опустилась на 50 см. Определите КПД рычага.

Ответ: _____ %

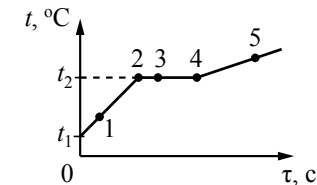
8 В открытый сосуд, заполненный водой, в области А (см. рисунок) поместили крупинки марганцовки (перманганата калия). В каком(-их) направлении(-ях) преимущественно будет происходить окрашивание воды от крупинки марганцовки, если начать нагревание сосуда с водой так, как показано на рисунке?



- 1) 1
- 2) 2
- 3) 3
- 4) во всех направлениях одинаково

Ответ:

9 На рисунке представлен график зависимости температуры t от времени τ , полученный при равномерном нагревании вещества нагревателем постоянной мощности. Первоначально вещество находилось в твёрдом состоянии.



Используя данные графика, выберите из предложенного перечня **два** верных утверждения. Укажите их номера.

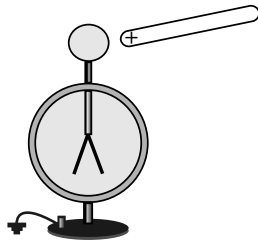
- 1) Точка 2 на графике соответствует жидкому состоянию вещества.
- 2) Внутренняя энергия вещества при переходе из состояния 3 в состояние 4 увеличивается.
- 3) Удельная теплоёмкость вещества в твёрдом состоянии равна удельной теплоёмкости этого вещества в жидком состоянии.
- 4) Испарение вещества происходит только в состояниях, соответствующих горизонтальному участку графика.
- 5) Температура t_2 равна температуре плавления данного вещества.

Ответ:

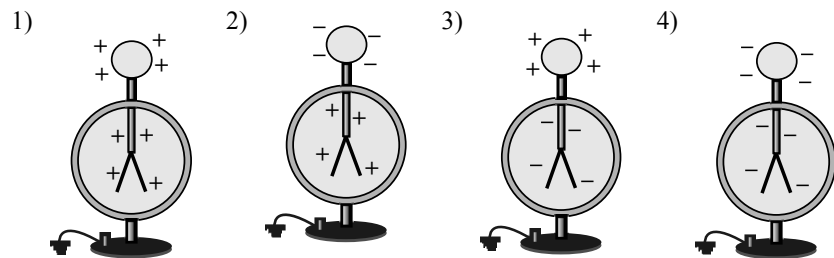
- 10** 3 л воды, взятой при температуре 20 °С, смешали с водой при температуре 100 °С. Температура смеси оказалась равной 40 °С. Чему равна масса горячей воды? Теплообменом с окружающей средой пренебречь.

Ответ: _____ кг.

- 11** Положительно заряженную стеклянную палочку поднесли, не касаясь, к шару незаряженного электроскопа. В результате листочки электроскопа разошлись на некоторый угол (см. рисунок).

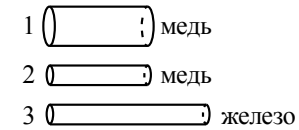


Распределение заряда в электроскопе при поднесении палочки правильно показано на рисунке



Ответ:

- 12** Имеется три резистора, изготовленных из различных материалов и имеющих различные размеры (см. рисунок).

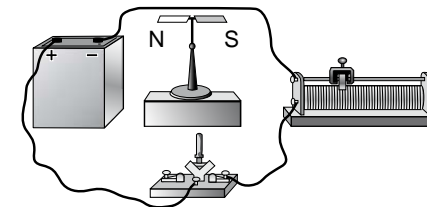


Наименьшее электрическое сопротивление при комнатной температуре имеет(-ют) резистор(-ы)

- 1) 1
- 2) 2
- 3) 3
- 4) 1 и 2

Ответ:

- 13** Линейный проводник закрепили над магнитной стрелкой и собрали электрическую цепь, представленную на рисунке.

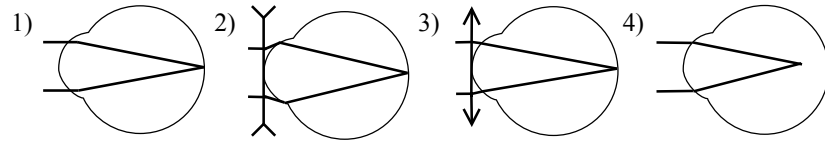


При замыкании ключа магнитная стрелка

- 1) останется на месте
- 2) повернется на 180°
- 3) повернется на 90° и установится перпендикулярно плоскости рисунка южным полюсом на читателя
- 4) повернется на 90° и установится перпендикулярно плоскости рисунка северным полюсом на читателя

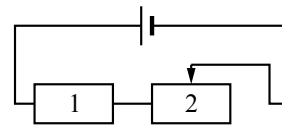
Ответ:

14 Какая из представленных на рисунке схем хода параллельного пучка лучей соответствует случаю дальновзорного глаза?



Ответ:

15 На рисунке изображена электрическая цепь, состоящая из источника тока, резистора и реостата. Как изменяются при передвижении ползунка реостата влево его сопротивление и сила тока в цепи?



Для каждой величины определите соответствующий характер изменения:

- 1) увеличивается
- 2) уменьшается
- 3) не изменяется

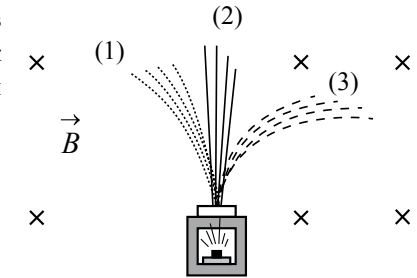
Запишите в таблицу выбранные цифры для каждой физической величины. Цифры в ответе могут повторяться.

Сопротивление реостата 2	Сила тока в цепи

16 Рассчитайте длину нихромовой проволоки площадью поперечного сечения $0,05 \text{ мм}^2$, необходимой для изготовления спирали нагревателя мощностью 275 Вт, работающего от сети постоянного напряжения 220 В.

Ответ: _____ м.

17 Радиоактивный препарат помещают в магнитное поле, в результате чего пучок радиоактивного излучения распадается на три компонента (см. рисунок).



Компонента (1) соответствует

- 1) альфа-излучению
- 2) гамма-излучению
- 3) бета-излучению
- 4) нейтронному излучению

Ответ:

18 Ученик провёл опыты по изучению силы трения скольжения, равномерно перемещая брусок с грузами по горизонтальным поверхностям с помощью динамометра (см. рисунок).



Результаты измерений массы бруска с грузами m , площади соприкосновения бруска и поверхности S и приложенной силы F он представил в таблице.

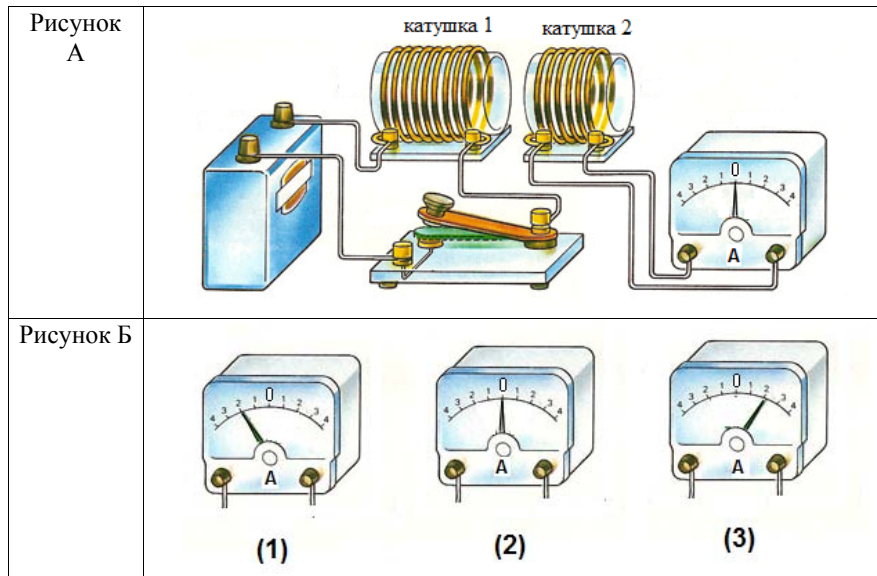
№ опыта	Поверхность	m , г	S , см^2	F , Н
1	Деревянная рейка	200	30	0,8
2	Пластиковая рейка	200	30	0,4
3	Деревянная рейка	100	20	0,4

На основании выполненных измерений можно утверждать, что сила трения скольжения

- 1) не зависит от площади соприкосновения бруска и поверхности
- 2) с увеличением площади соприкасаемых поверхностей увеличивается
- 3) с увеличением массы бруска увеличивается
- 4) зависит от рода соприкасающихся поверхностей

Ответ:

- 19 Используя две катушки, одна из которых подсоединена к источнику тока, а другая замкнута на амперметр, ученик изучал явление электромагнитной индукции. На рисунке А представлена схема эксперимента, а на рисунке Б – показания амперметра для момента замыкания цепи с катушкой 1 (рис. 1), для установившегося постоянного тока, протекающего через катушку 1 (рис. 2), и для момента размыкания цепи с катушкой 1 (рис. 3).



Из предложенного перечня выберите **два** утверждения, соответствующих экспериментальным наблюдениям. Укажите их номера.

- 1) В катушке 1 электрический ток протекает только в момент замыкания и размыкания цепи.
- 2) Направление индукционного тока зависит от скорости изменения магнитного потока, пронизывающего катушку 2.
- 3) При изменении магнитного поля, создаваемого катушкой 1, в катушке 2 возникает индукционный ток.
- 4) Направление индукционного тока в катушке 2 зависит от того, увеличивается или уменьшается электрический ток в катушке 1.
- 5) Величина индукционного тока зависит от магнитных свойств среды.

Ответ:

Прочитайте текст и выполните задания 20–22.

Молния и гром

Атмосферное электричество образуется и концентрируется в облаках – образованиях из мелких частиц воды, находящейся в жидком или твёрдом состоянии. При дроблении водяных капель и кристаллов льда, при столкновениях их с ионами атмосферного воздуха крупные капли и кристаллы приобретают избыточный отрицательный заряд, а мелкие – положительный. Восходящие потоки воздуха в грозовом облаке поднимают мелкие капли и кристаллы к вершине облака, крупные капли и кристаллы опускаются к его основанию.

Заряженные облака наводят на земной поверхности под собой противоположный по знаку заряд. Внутри облака и между облаком и Землёй создаётся сильное электрическое поле, которое способствует ионизации воздуха и возникновению искровых разрядов (молний) как внутри облака, так и между облаком и поверхностью Земли.

Гром возникает вследствие резкого расширения воздуха при быстром повышении температуры в канале разряда молнии.

Вспышку молнии мы видим практически одновременно с разрядом, так как скорость распространения света очень велика ($3 \cdot 10^8$ м/с). Разряд молнии длится всего 0,1–0,2 с.

Звук распространяется значительно медленнее. В воздухе его скорость равна примерно 330 м/с. Чем дальше от нас произошёл разряд молнии, тем длиннее пауза между вспышкой света и громом. Гром от очень далёких молний вообще не доходит: звуковая энергия рассеивается и поглощается по пути. Такие молнии называют зарницами. Как правило, гром слышен на расстоянии до 15–20 км; таким образом, если наблюдатель видит молнию, но не слышит грома, то гроза находится на расстоянии более 20 км.

Гром, сопровождающий молнию, может длиться в течение нескольких секунд. Существует две причины, объясняющие, почему вслед за короткой молнией слышатся более или менее долгие раскаты грома. Во-первых, молния имеет очень большую длину (она измеряется километрами), поэтому звук от разных её участков доходит до наблюдателя в разные моменты времени. Во-вторых, происходит отражение звука от облаков и туч – возникает эхо. Отражением звука от облаков объясняется происходящее иногда усиление громкости звука в конце громовых раскатов.

20 Для того чтобы оценить, приближается к нам гроза или нет, необходимо измерить

- 1) время, соответствующее паузе между вспышкой молнии и сопровождающими её раскатами грома
- 2) время между двумя вспышками молнии
- 3) время двух последовательных пауз между вспышками молнии и сопровождающими их раскатами грома
- 4) время, соответствующее длительности раската грома

Ответ:

21 Какое(-ие) утверждение(-я) справедливо(-ы)?

А. Громкость звука всегда ослабевает в конце громовых раскатов.
Б. Измеряемый интервал времени между молнией и сопровождающим её громовым раскатом никогда не бывает более 1 мин.

- 1) только А
- 2) только Б
- 3) и А, и Б
- 4) ни А, ни Б

Ответ:

Не забудьте перенести все ответы в бланк ответов № 1 в соответствии с инструкцией по выполнению работы.

При выполнении задания 22 с развёрнутым ответом используйте БЛАНК ОТВЕТОВ № 2. Запишите сначала номер задания, а затем ответ на него. Полный ответ должен включать не только ответ на вопрос, но и его развёрнутое, логически связанное обоснование. Ответ записывайте чётко и разборчиво.

22 Как направлен (сверху вниз или снизу вверх) электрический ток разряда внутриоблачной молнии при механизме электризации, описанном в тексте? Ответ поясните.

Часть 2

Для ответов на задания 23–26 используйте БЛАНК ОТВЕТОВ № 2. Запишите сначала номер задания (23, 24 и т.д.), а затем ответ к нему. Ответы записывайте чётко и разборчиво.

23 Используя собирающую линзу, экран, линейку, соберите экспериментальную установку для определения оптической силы линзы. В качестве источника света используйте свет от удалённого окна.

В бланке ответов:

- 1) сделайте рисунок экспериментальной установки;
- 2) запишите формулу для расчёта оптической силы линзы;
- 3) укажите результат измерения фокусного расстояния линзы;
- 4) запишите значение оптической силы линзы.

Задание 24 представляет собой вопрос, на который необходимо дать письменный ответ. Полный ответ должен содержать не только ответ на вопрос, но и его развёрнутое, логически связанное обоснование.

24 Имеются деревянный и металлический шарики одинакового объёма. Какой из шариков в 40-градусную жару на ощупь кажется холоднее? Ответ поясните.

Для заданий 25, 26 необходимо записать полное решение, включающее запись краткого условия задачи (Дано), запись формул, применение которых необходимо и достаточно для решения задачи, а также математические преобразования и расчёты, приводящие к числовому ответу.

25 Шары массами 6 и 4 кг, движущиеся навстречу друг другу со скоростью $2 \frac{\text{м}}{\text{с}}$ каждый относительно Земли, соударяются, после чего движутся вместе. Определите, какое количество теплоты выделится в результате соударения.

26 Имеются два одинаковых электрических нагревателя мощностью 600 Вт каждый. На сколько градусов можно нагреть 2 л воды за 7 мин, если нагреватели будут включены параллельно в электросеть с напряжением, на которое рассчитан каждый из них? Потери энергии пренебречь.

Система оценивания экзаменационной работы по физике**Часть 1**

За верное выполнение каждого из заданий 2–5, 7, 8, 10–14, 16–18 и 20, 21 выставляется по 1 баллу.

Задание 1 оценивается в 2 балла, если верно указаны все элементы ответа; в 1 балл, если допущена одна ошибка; в 0 баллов, если допущено более одной ошибки.

Каждое из заданий 6, 9, 15, 19 оценивается в 2 балла, если верно указаны оба элемента ответа; в 1 балл, если допущена одна ошибка; в 0 баллов, если оба элемента указаны неверно.

№ задания	Ответ	№ задания	Ответ	№ задания	Ответ
1	425	8	1	15	21
2	3	9	25	16	8
3	3	10	1	17	1
4	4	11	2	18	4
5	2	12	1	19	34
6	12	13	4	20	3
7	80	14	3	21	2

Критерии оценивания заданий с развёрнутым ответом**Молния и гром**

Атмосферное электричество образуется и концентрируется в облаках – образованиях из мелких частиц воды, находящейся в жидком или твёрдом состоянии. При дроблении водяных капель и кристаллов льда, при столкновениях их с ионами атмосферного воздуха крупные капли и кристаллы приобретают избыточный отрицательный заряд, а мелкие – положительный. Восходящие потоки воздуха в грозовом облаке поднимают мелкие капли и кристаллы к вершине облака, крупные капли и кристаллы опускаются к его основанию.

Заряженные облака наводят на земной поверхности под собой противоположный по знаку заряд. Внутри облака и между облаком и Землёй создаётся сильное электрическое поле, которое способствует ионизации воздуха и возникновению искровых разрядов (молний) как внутри облака, так и между облаком и поверхностью Земли.

Гром возникает вследствие резкого расширения воздуха при быстром повышении температуры в канале разряда молнии.

Вспышку молнии мы видим практически одновременно с разрядом, так как скорость распространения света очень велика ($3 \cdot 10^8$ м/с). Разряд молнии длится всего 0,1–0,2 с.

Звук распространяется значительно медленнее. В воздухе его скорость равна примерно 330 м/с. Чем дальше от нас произошёл разряд молнии, тем длиннее пауза между вспышкой света и громом. Гром от очень далёких молний вообще не доходит: звуковая энергия рассеивается и поглощается по пути. Такие молнии называют зарницами. Как правило, гром слышен на расстоянии до 15–20 км; таким образом, если наблюдатель видит молнию, но не слышит грома, то гроза находится на расстоянии более 20 км.

Гром, сопровождающий молнию, может длиться в течение нескольких секунд. Существует две причины, объясняющие, почему вслед за короткой молнией слышатся более или менее долгие раскаты грома. Во-первых, молния имеет очень большую длину (она измеряется километрами), поэтому звук от разных её участков доходит до наблюдателя в разные моменты времени. Во-вторых, происходит отражение звука от облаков и туч – возникает эхо. Отражением звука от облаков объясняется происходящее иногда усиление громкости звука в конце грозовых раскатов.

- 22 Как направлен (сверху вниз или снизу вверх) электрический ток разряда внутриоблачной молнии при механизме электризации, описанном в тексте? Ответ поясните.

Образец возможного ответа

- Сверху вниз.
- Согласно описанию в тексте верхняя часть облака содержит преимущественно мелкие частицы, имеющие избыточный положительный заряд. Внизу облака накапливаются крупные частицы, имеющие избыточный отрицательный заряд. За направление электрического тока принимается направление движения в электрическом поле, создаваемом током, свободной положительно заряженной частицы.

Содержание критерия	Баллы
Представлен правильный ответ на вопрос, и приведено достаточное обоснование, не содержащее ошибок	2
Представлен правильный ответ на поставленный вопрос, но рассуждения, приводящие к ответу, представлены не в полном объеме, или в них содержится логический недочёт. ИЛИ Представлены корректные рассуждения, приводящие к правильному ответу, но ответ явно не сформулирован	1
Представлены общие рассуждения, не относящиеся к ответу на поставленный вопрос. ИЛИ Ответ на вопрос неверен независимо от того, что рассуждения правильны или неверны, или отсутствуют	0
<i>Максимальный балл</i>	2

- 23 Используя собирающую линзу, экран, линейку, соберите экспериментальную установку для определения оптической силы линзы. В качестве источника света используйте свет от удалённого окна.

В бланке ответов:

- сделайте рисунок экспериментальной установки;
- запишите формулу для расчёта оптической силы линзы;
- укажите результат измерения фокусного расстояния линзы;
- запишите значение оптической силы линзы.

Характеристика оборудования

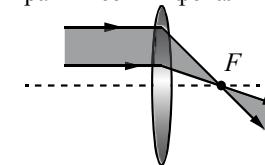
При выполнении задания используется комплект оборудования № 6 в следующем составе:

Наборы лабораторные	Комплект «ГИА-лаборатория»
Комплект № 6	
<ul style="list-style-type: none"> собирающая линза, фокусное расстояние $F_1 = (60 \pm 10)$ мм линейка длиной 300–400 мм с миллиметровыми делениями экран рабочее поле источник питания постоянного тока соединительные провода, 3 шт. ключ лампа на подставке 	<ul style="list-style-type: none"> собирающая линза, фокусное расстояние $F_1 = (97 \pm 10)$ мм линейка длиной 300 мм с миллиметровыми делениями экран направляющая (оптическая скамья) держатель для экрана источник питания постоянного тока соединительные провода ключ лампа на держателе

Внимание! При замене какого-либо элемента оборудования на аналогичное с другими характеристиками необходимо внести соответствующие изменения в образец выполнения задания.

Образец возможного выполнения

- Схема экспериментальной установки (изображение удалённого источника света (окна) формируется практически в фокальной плоскости):



$$2. D = \frac{1}{F}.$$

$$3. F = 60 \text{ мм} = 0,060 \text{ м}.$$

$$4. D = \frac{1}{0,06 \text{ м}} \approx 17 \text{ дптр}.$$

Указание экспертам

Измерение фокусного расстояния считается верным, если попадает в интервал ± 15 мм к номинальному значению.

Содержание критерия	Баллы
Полностью правильное выполнение задания, включающее в себя: 1) схематичный рисунок экспериментальной установки; 2) формулу для расчёта искомой величины по доступным для измерения величинам (в данном случае для оптической силы через фокусное расстояние); 3) правильно записанные результаты прямых измерений (в данном случае результаты измерения фокусного расстояния); 4) полученное правильное численное значение искомой величины	4
Приведены все элементы правильного ответа 1–4, но допущена ошибка при вычислении значения искомой величины. ИЛИ Допущена ошибка при обозначении единиц измерения искомой величины. ИЛИ Допущена ошибка в схематичном рисунке экспериментальной установки, или рисунок отсутствует, или отсутствует формула в общем виде для расчёта искомой величины	3
Сделан рисунок экспериментальной установки, правильно приведены значения прямых измерений величин, но не записана формула для расчёта искомой величины, и не получен ответ. ИЛИ Правильно приведены значения прямых измерений величин, записана формула для расчёта искомой величины, но не получен ответ, и не приведён рисунок экспериментальной установки. ИЛИ Правильно приведены значения прямых измерений, приведён правильный ответ, но отсутствуют рисунок экспериментальной установки и формула для расчёта искомой величины	2
Записаны только правильные значения прямых измерений. ИЛИ Приведено правильное значение только одного из прямых измерений, и представлена правильно записанная формула для расчёта искомой величины. ИЛИ	1

Приведено правильное значение только одного из прямых измерений, и сделан рисунок экспериментальной установки	
Все случаи выполнения, которые не соответствуют вышеуказанным критериям выставления 1, 2, 3 или 4 баллов. Разрозненные записи. Отсутствие попыток выполнения задания	0
<i>Максимальный балл</i>	
	4

24

Имеются деревянный и металлический шарики одинакового объёма. Какой из шариков в 40-градусную жару на ощупь кажется холоднее? Ответ поясните.

Образец возможного ответа

1. Деревянный шарик в сорокоградусную жару на ощупь кажется холоднее.
2. Теплопроводность металлического шарика больше теплопроводности деревянного. Теплоотвод от металлического шарика к более холодному пальцу происходит интенсивнее, это создаёт ощущение более горячего тела.

Содержание критерия	Баллы
Представлен правильный ответ на вопрос, и приведено достаточное обоснование, не содержащее ошибок.	2
Представлен правильный ответ на поставленный вопрос, но его обоснование не является достаточным, хотя содержит оба элемента правильного ответа или указание на физические явления (законы), причастные к обсуждаемому вопросу. ИЛИ Представлены корректные рассуждения, приводящие к правильному ответу, но ответ явно не сформулирован.	1
Представлены общие рассуждения, не относящиеся к ответу на поставленный вопрос. ИЛИ Ответ на вопрос неверен независимо от того, что рассуждения правильны или неверны, или отсутствуют.	0
<i>Максимальный балл</i>	
	2

25 Шары массами 6 и 4 кг, движущиеся навстречу друг другу со скоростью $2 \frac{м}{с}$ каждый относительно Земли, соударяются, после чего движутся вместе. Определите, какое количество теплоты выделится в результате соударения.

Возможный вариант решения	
<p><u>Дано:</u> $m_1 = 6 \text{ кг}$ $m_2 = 4 \text{ кг}$ $v = 2 \frac{м}{с}$</p>	<p>Согласно закону сохранения импульса $m_1 v - m_2 v = u(m_1 + m_2)$.</p> <p>Отсюда скорость шаров после удара: $u = \frac{v(m_1 - m_2)}{m_1 + m_2}$.</p> <p>Согласно закону сохранения энергии можно найти выделившееся количество теплоты как изменение кинетической энергии системы тел до и после взаимодействия: $Q = \left(\frac{m_1 v^2}{2} + \frac{m_2 v^2}{2} \right) - \frac{(m_1 + m_2) u^2}{2}$.</p> <p>Отсюда: $Q = \frac{2m_1 m_2}{m_1 + m_2} v^2$</p>
$Q - ?$	<i>Ответ:</i> $Q = 19,2 \text{ Дж}$

Содержание критерия	Баллы
<p>Приведено полное правильное решение, включающее следующие элементы: 1) верно записано краткое условие задачи; 2) записаны уравнения и формулы, <u>применение которых необходимо и достаточно</u> для решения задачи выбранным способом (в данном решении: закон сохранения энергии, закон сохранения импульса); 3) выполнены необходимые математические преобразования и расчёты, приводящие к правильному числовому ответу, и представлен ответ. При этом допускается решение «по частям» (с промежуточными вычислениями)</p>	3
<p>Правильно записаны необходимые формулы, проведены вычисления, и получен ответ (верный или неверный), но допущена ошибка в записи краткого условия или переводе единиц в СИ. ИЛИ Представлено правильное решение только в общем виде, без каких-либо числовых расчетов. ИЛИ Записаны уравнения и формулы, <u>применение которых необходимо и достаточно</u> для решения задачи выбранным способом, но в математических преобразованиях или вычислениях допущена ошибка</p>	2

Записаны и использованы не все исходные формулы, необходимые для решения задачи.	1
ИЛИ	
Записаны все исходные формулы, но в одной из них допущена ошибка	0
Все случаи решения, которые не соответствуют вышеуказанным критериям выставления оценок в 1, 2, 3 балла	0
<i>Максимальный балл</i>	
	3

26 Имеются два одинаковых электрических нагревателя мощностью 600 Вт каждый. На сколько градусов можно нагреть 2 л воды за 7 мин, если нагреватели будут включены параллельно в электросеть с напряжением, на которое рассчитан каждый из них? Потерями энергии пренебречь.

Возможный вариант решения	
<p><u>Дано:</u> $P = 600 \text{ Вт}$ $V = 2 \text{ л} = 0,002 \text{ м}^3$ $\rho = 1000 \text{ кг/м}^3$ $c = 4200 \text{ Дж/(кг} \cdot \text{°C)}$ $\tau = 420 \text{ с}$</p>	<p>$m = \rho \cdot V$, значит $m = 2 \text{ кг}$</p> <p>$P = \frac{U^2}{R}$, отсюда сопротивление одного нагревателя</p> <p>$R = \frac{U^2}{P}$</p> <p>Закон сохранения энергии при нагревании воды при параллельном соединении двух спиралей:</p> <p>$Q = P_{\text{двух}} \tau$ или $cm\Delta t = \frac{U^2}{R_{\text{общее}}} \tau = \frac{2U^2}{R} \tau = 2P\tau$.</p> <p>$\Delta t = \frac{2P \tau}{cm}$</p>
$\Delta t - ?$	<i>Ответ:</i> 60 °C

Содержание критерия	Баллы
<p>Приведено полное правильное решение, включающее следующие элементы: 1) верно записано краткое условие задачи; 2) записаны уравнения и формулы, <u>применение которых необходимо и достаточно</u> для решения задачи выбранным способом (в данном решении: закон сохранения энергии, формула расчёта количества теплоты, необходимого для нагревания воды, формула для расчёта сопротивления системы проводников при параллельном соединении, формула мощности тока, формула расчёта массы тела по его объёму и плотности); 3) выполнены необходимые математические преобразования и расчёты, приводящие к правильному числовому ответу, и</p>	3

представлен ответ. При этом допускается решение «по частям» (с промежуточными вычислениями).	
Правильно записаны необходимые формулы, проведены вычисления, и получен ответ (верный или неверный), но допущена ошибка в записи краткого условия или переводе единиц в СИ. ИЛИ Представлено правильное решение только в общем виде, без каких-либо числовых расчётов. ИЛИ Записаны уравнения и формулы, <u>применение которых необходимо и достаточно</u> для решения задачи выбранным способом, но в математических преобразованиях или вычислениях допущена ошибка	2
Записаны и использованы не все исходные формулы, необходимые для решения задачи. ИЛИ Записаны все исходные формулы, но в одной из них допущена ошибка	1
Все случаи решения, которые не соответствуют вышеуказанным критериям выставления оценок в 1, 2, 3 балла	0
<i>Максимальный балл</i>	3

В соответствии с Порядком проведения государственной итоговой аттестации по образовательным программам основного общего образования (приказ Минобрнауки России от 25.12.2013 № 1394 зарегистрирован Минюстом России 03.02.2014 № 31206)

«48. Экзаменационные работы проверяются двумя экспертами. По результатам проверки эксперты независимо друг от друга выставляют баллы за каждый ответ на задания экзаменационной работы... В случае существенного расхождения в баллах, выставленных двумя экспертами, назначается третья проверка. Существенное расхождение в баллах определено в критериях оценивания по соответствующему учебному предмету.

Третий эксперт назначается председателем предметной комиссии из числа экспертов, ранее не проверявших экзаменационную работу.

Третьему эксперту предоставляется информация о баллах, выставленных экспертами, ранее проверявшими экзаменационную работу обучающегося. Баллы, выставленные третьим экспертом, являются окончательными».

Если расхождение составляет 2 и более балла за выполнение любого из заданий 22 – 26, *то третий эксперт проверяет только те задания, которые вызвали столь существенное расхождение.*