

Контрольная работа №5 по теме «Оптика»

Вариант 1.

1. По рисунку 1 определите, какая среда 1 или 2 является оптически более плотной.
2. Жучок подполз ближе к плоскому зеркалу на 5 см. На сколько уменьшилось расстояние между ним и его изображением?
3. На рисунке 2 изображено зеркало и падающие на него лучи 1—3. Постройте ход отраженных лучей и обозначьте углы падения и отражения.
4. Постройте и охарактеризуйте изображение предмета в собирающей линзе, если расстояние между линзой и предметом больше двойного фокусного.
5. Фокусное расстояние линзы равно 20 см. На каком расстоянии от линзы пересекутся после преломления лучи, падающие на линзу параллельно главной оптической оси?

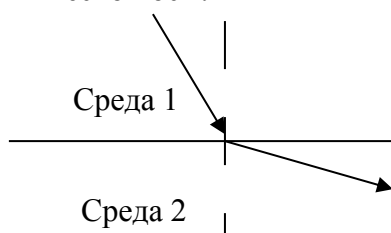


Рис. 1

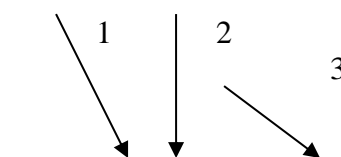


Рис. 2

Вариант 2.

1. На рисунке 1 изображен луч, падающий из воздуха на гладкую поверхность воды. Начертите в тетради ход отраженного луча и примерный ход преломленного луча.
2. На рисунке 2 изображены два параллельных луча света, падающего из стекла в воздух. На каком расстоянии из рисунков а---в правильно изображен примерный ход этих лучей?
3. Где нужно расположить предмет, чтобы увидеть его прямое изображение с помощью собирающей линзы?
4. Предмет находится на двойном фокусном расстоянии от собирающей линзы. Постройте его изображение и охарактеризуйте его.
5. Ученик опытным путем установил, что фокусное расстояние линзы равно 50 см. Какова ее оптическая сила?

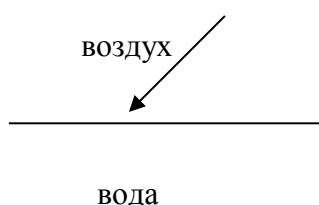


Рис. 1

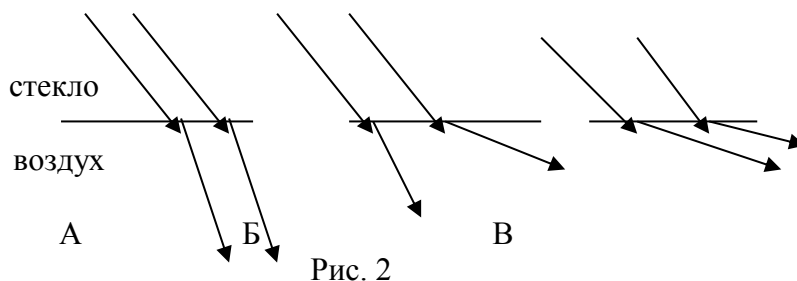


Рис. 2